

Pecyn  
Gweithgareddau  
Ysgol Gymraeg  
Casnewydd  
Activity Pack



Blwyddyn 5 / Year 5  
Wythnos 1 / Week 1  
29.6.20

## CYFARWYDDIADAU DYSGU ADREF/YSGOL.

Yn y pecyn yma mae'r adnoddau i gyd sydd angen arnoch chi i gwblhau'r tasgau yn ystod yr wythnos.

### OS YDY EICH PLENTYN YN DYCHWELYD I'R YSGOL

Os ydy eich plentyn yn dychwelyd i'r ysgol, **NID**

**OES** angen iddynt gwblhau'r tasgau sydd wedi uwcholeuo mewn **MELYN**, dyma'r tasgau y byddwn yn cwblhau yn yr ysgol. Ar ben pob tasg yn y pecyn mi fydd yn nodi os ydy'r weithgaredd yn cael ei gwblhau yn yr ysgol neu adref.

Mi fydd gweddill y pecyn yn cael eu gwblhau adref.

### OS NAD YW EICH PLENTYN YN DYCHWELYD I'R YSGOL

Os **NAD** yw eich plentyn yn dychwelyd i'r ysgol, mi fydd y tasgau yma i gyd yn cael eu gwblhau adref. Mi fydd yna gyflwyniad fideo i'r tasgau mewn **MELYN** ar gael ar ein sianel You Tube ysgol. Mae'r linicau i'r fideos ar y dudalen canlynol.

## INSTRUCTIONS TO HOME/SCHOOL LEARNING

In this pack you have all the resources that you need to complete the tasks for the week.

### IF YOUR CHILLD IS RETURNING TO SCHOOL:

If your child is returning to school, they **DO NOT** need to complete any tasks that are highlighted on the grid in **YELLOW**, these are the tasks that we will be completing in school. At the top of each task in the work pack it will also note if it is a school task or a task to be completed at home.

The rest of the tasks are to be completed at home.

### IF YOUR CHILD IS NOT RETURNING TO SCHOOL:

If your child is **NOT** returning to school, all tasks should be completed at home. Video introductions of the tasks highlighted in **YELLOW** will be available on the school You Tube channel. The links to the videos are on the following page.

# Sianel You Tube / You Tube channel

Linciau i'r tasgiau sydd wedi uwcholeuo yn felyn:

Links to tasks highlighted in yellow.

Tasg Cymraeg 1/ Welsh Task 1

❖ [https://youtu.be/oF\\_1s48pJMo](https://youtu.be/oF_1s48pJMo)

Tasg Cymraeg 3/ Welsh Task 3

❖ <https://youtu.be/y6dzYKTcHfE>

Tasg Lles 1/ Wellbeing Task 1

❖ <https://youtu.be/RTnbqnVHhwg>

Tasg Lles 2/ Wellbeing Task 2

❖ <https://youtu.be/OPimysfQeEO>

# Grid 29. 6. 20 - Blwyddyn 5

LLYTHRENNEDD / LITERACY	RHIFEDD / NUMERACY	ARLOESI / INNOVATION	IECHYD A LLES / HEALTH AND WELL-BEING
<p><b>TASG CYMRAEG YN YSGOL / WELSH TASK IN SCHOOL</b> Gwylwch y clip fideo / Watch the video clip <a href="https://www.literacyshed.com/tamara.html">https://www.literacyshed.com/tamara.html</a> Wedyn, gwylwch y cyflwyniad athro ar YouTube. / Then, watch the teacher's presentation on YouTube. Yn dilyn hyn, cwblhewch TASG CYMRAEG 1 – Anelwch am y sêr Following this, complete WELSH TASK 1 – Reach for the stars</p>	<p><b>TASG MATHEMATEG YN YR YSGOL / MATHEMATICS TASK IN SCHOOL</b> <b>Mathemateg Rygbi/Rugby Mathematics</b> Mae chwaraewyr rygbi yn cerdded, loncian a rhedeg mewn gêm rygbi. Dewch o hyd i'r pellter mae'r chwaraewyr hyn wedi teithio yn ystod y gêm mewn 1 munud? TASG 1 <b>MATHEMATEG</b> Rugby Mathematics Rugby players have to run, jog and walk during a game. How far have these players travelled in 1 minute? <b>TASK 1 MATHEMATICS</b></p>	<p><b>TASG ARLOESI 1 / INNOVATION TASK 1</b> <b>Coedwigoedd Glaw Trofannol / Tropical Rainforests</b> Darllenwch y wybodaeth a gwylwch y fideos. Read the information and watch the videos. Cwblhewch <b>DASG ARLOESI 1</b> – Haenau Coedwigoedd Glaw Trofannol. Complete <b>INNOVATION TASK 1</b> – The layers of The Tropical Rainforest</p>	<p><b>TASG LLES 1 / WELLBEING TASK 1</b> <a href="https://www.youtube.com/watch?v=2PnnFrPaRgY">https://www.youtube.com/watch?v=2PnnFrPaRgY</a> A fedrwrch chi greu cardiau fflach sy'n dangos, cwttch, neges a pump uchel? Gallech ddangos y cardiau i'ch ffrindiau ar yr iard! Can you make flash cards that show hugs, messages and a high fives? You can show these to your friends on the yard.</p>
<p><b>TASG DARLLEN A DEALL / READING COMPREHENSION TASK</b> Darllenwch y darn darllen a chwblhewch TASG 2 CYMRAEG. Mae 3 opsiwn ar gyfer y darn darllen. Dewsiwch yr un sydd yn addas ar eich cyfer. Cofiwch i herio eich hun. Yna, cwblhewch y dasg 3-2-1. Read the extract and complete <b>TASK 2 WELSH</b>. There are three extracts. Choose the one that is appropriate to you. Remember to challenge yourself. Then, complete the 3-2-1 task.</p>	<p><b>TASG MATHEMATEG 2 / MATHEMATICS TASK 2</b> <b>Darganfod bondiau o 10 100 a 1000 / Number Bonds of 10, 100 and 1000</b> Dilynwch y pwyntpwr ac yna atebwch y cwestiynau. Dewsiwch y rhai sydd yn addas ar eich cyfer. Cofiwch herio eich hun. Follow the PowerPoint and answer the questions. Choose the one that is most appropriate to you. Remember to challenge yourself.</p>	<p><b>TASG ARLOESI 2 / INNOVATION TASK 2</b> <b>Anifeiliaid Arbennig Coedwigoedd Glaw Trofannol / Amazing Animals of the Tropical Rainforest</b> Edrychwch ar a darllenwch yr esiampl. Yna chwblhewch <b>Dasg Arloesi 2</b> – Ymchwilio i anifail sydd yn byw yn y goedwig law. Look at and read the example. Then, complete <b>INNOVATION TASK 2</b> – Research into an animal that lives in the rainforest.</p>	<p><b>TASG LLES 2 / WELLBEING TASK 2</b> <a href="https://youtu.be/OPimysfQeEO">https://youtu.be/OPimysfQeEO</a> Trafoedwch y ddau gwestiwn yma a nodwch eich barn mewn swigod meddwl. Beth gweithiodd yn dda i chi yn y tŷ? Beth oeddech chi'n gweld yn heriol yn ystod yr adeg? What worked well for you at home? What did you find challenging at during this time? Discuss the above questions and note your opinion in thinking bubbles.</p>
<p><b>DARLLEN / READING</b> <a href="https://youtu.be/y6dzYKTcHfE">https://youtu.be/y6dzYKTcHfE</a> Gwrandewch ar stori gan athrawes a chwblhewch <b>TASG CYMRAEG 3</b> – Clawr llyfr. Listen to a Welsh story read by the teacher and complete <b>TASK CYMRAEG 3</b> – Book Cover  Blwyddyn 5 &amp; 6:- Mr Abracadabra Jones</p>	<p><b>CWIS MATHEMATEG / MATHEMATICS QUIZ</b> <b>Number Bonds of 10, 100 and 1000 / Mathematics Quiz- Number Bonds of 10, 100 and 1000</b> <b>O dan Assignments / under Assignments:</b> Cwis Lluosi a rhannu gyda 10 a 100- <b>Ar fy ffordd</b> Cwis Lluosi a rhannu gyda 10 a 100- <b>Bron yna</b> Cwis Lluosi a rhannu gyda 10 a 100- <b>Barod am her</b></p>	<p><b>TASG ARLOESI 3 / INNOVATION TASK 3</b> <b>Plamhigion Rhyfeddol / Peculiar Plants</b> Edrychwch yn ofalus ar y teigeirian. Yna, cwblhewch <b>TASG ARLOESI 3</b> – Creu llun gwych o'r blodyn. Look closely at the orchid. Then, complete <b>INNOVATION TASK 3</b> – Draw a beautiful picture of the flower.</p>	<p><b>Tasg Lles 3 E-ddiogelwch cydbwysu amser sgrin / Wellbeing Task 3 E-safety balancing screen time</b> Ymchwiliwch i gydbwysu amser sgrin o'r dolenni a roddir yn <b>Tasg Lles 3</b>. Yna, cwblhewch y ddau weithgaredd i'ch helpu i adnabod yr arwyddion a dod o hyd i gydbwysedd. Research balancing screen time from the links given in <b>Task Wellbeing 3</b>. Then, complete the two activities to help you spot the signs and find a balance.</p>

Tasg 1 Cymraeg- Anelwch at y sêr (yn yr ysgol)

Welsh Task 1- Reach for the stars (we will be completing in school)

Dywedodd Desmond Tutu "Hope is Being Able To See That There Is Light, Despite All Of The Darkness".

Gwyliwch y clip o Tamara <https://www.literacyshed.com/tamara.html>. ac yna gwyliwch gyflwyniad eich athro. A fedrwch chi greu dyfyniadau ybrydoledig ar gyfer Tamara fel ei bod hi'n gallu gwireddi ei breuddwyd?

Watch the clip of Tamara <https://www.literacyshed.com/tamara.html>. and watch your teacher's introduction. Can you create inspirational quotes (in Welsh) like the above for Tamara in order to help her fulfil her dream?



**TASG CYMRAEG 2 – WELSH TASK 2 (Adref/Complete at home)**



Dewiswch y darn darllen bydd yn rhoi her addas i chi.  
Darllenwch y wybodaeth ac yna, cwblhewch y dasg 3-2-1.  
Choose the reading extract that gives you the appropriate level  
of challenge. Read the extract and complete the 3-2-1 task.

**3** ffaith diddorol a ddysgoch/interesting facts that you learnt:

**2** cwestiwn sydd gennych chi/questions that you have:

**1** peth oedd wedi eich synnu/thing that surprised you:



# Coedwig Law



Barod am her

Y goedwig law yw un o'r manau mwyaf cynnes a gwlyb ar y Ddaear. Gall pob math o blanhigion fyw gyda'i gilydd yn y lleithder (*humidity*) a'r gwres – blodau mor fach â gronyn o reis a choed anferth a thal. Mae'r goedwig hon yn llawn o ddail, gwreiddiau (*roots*), blagur (*buds*) a choesynnau (*stems*).

## Pa anifeiliaid sydd yn byw yma?

Mae llawer o anifeiliaid yn byw yn y goedwig law. Ceir miliynau o drychfilod, malwod, morgrug (*ants*) a mwydod sy'n llai na'r "o" yma. Bydd eliffantod enfawr yn cerdded yn ddistaw drwy'r coed a gorilas tawel yn cnoi dail a ffrwythau. Ond mae peryglon yn y goedwig hefyd, wrth i gathod mawr ffyrnig grwydro ar hyd y llawr ac eryrod hedfan rhwng y canghennau (*branches*). Does unman arall ar wyneb y Ddaear yn gartref i fywyd gwyllt mor ddiddorol, mor hardd ac mor beryglus.



Eryr Cribog



Teigr Swmatraidd



Malwoden y Goedwig Law

## FFEITHIAU DIDDOROL

- o Ceir coedwigoedd glaw ym mhob rhan o'r Ddaear, o Ganolbarth America (*Central America*) i Seland Newydd (*New Zealand*).
- o Mae rhai coedwigoedd glaw yn agos at y cyhydedd (*equator*) – y trofannau (*tropics*) yw enw'r rhan hon o'r byd.
- o Mae hi'n gynnes iawn yno bob dydd – weithiau dros 40°C!
- o I'r de ac i'r gogledd o'r trofannau mae coedwigoedd glaw sydd yn llawer oerach – gall y tumheredd yma ddisgyn i 5°C.

## YR AMASON, MADAGASCAR A'R CONGA

Yr Amason yw goedwig law fwyaf'r byd. Mae hi yr un faint â'r holl goedwigoedd glaw eraill gyda'i gilydd! Gall fwrw glaw yma am fwy na 200 diwrnod y flwyddyn. Madagascar yw cartref rhai o anifeiliaid rhyfeddaf (*strangest*) a mwyaf prin (*rarest*) y goedwig law, yn cynnwys sawl math o lemwr, ystlumod, a hyd yn oed brogaod tomato! Y Congo yw'r ail goedwig law fwyaf yn y byd, lle mae dros 1,000 o fathau o adar, 300 math o ymlusgiaid (*reptiles*) a 12,000 o fathau o blanhigion yn byw. Dyma gartref y gorila mynydd prin (*rare mountain gorilla*).



Lemwr

## ARFORDIR Y MÔR TAWEL, TASMANIA A BORNEO

Mae Arfordir y Môr Tawel ar hyd arfordir (*coast*) gogledd- orllewin Gogledd America. Yn yr haf mae hi'n gynnes yno, ond nid yn boeth, ac yn y gaeaf mae hi'n oerach, ond nid yn oer iawn. Coedwig law Tasmania, ynys (*island*) fer Awstralia, yw cartref anifail ffyrnig o'r enw cythraul Tasmania (*Tasmanian Devil*) sy'n hoff o hela (*hunt*) yn y tywyllwch oer. Mae coedwigoedd glaw Borneo yn gorchuddio (*covers*) dros hanner yr ynys hardd hon yn ne-ddwyrain Asia. Mae'n hen iawn – dros 120 miliwn o flynyddoedd oed – a dyma rai o'r coedwigoedd hynaf (*oldest*) yn y byd.



Broga Tomato



Borneo



Cythraul Tasmania



# Broga'r Coed



Bron  
Yna

Creadur y nos yw broga'r coed. Mae'n cysgu drwy'r dydd ac yn hela trychfilod (hunts for insects) o bob math yn ystod y nos. Os bydd anifail peryglus (dangerous), fel neidr (snake), yn dod yn agos ato, bydd broga'r coed yn agor ei lygaid mawr coch yn lydan (wide) er mwyn drysu'r (confuse) neidr. Yna, gall y broga neidio i le diogel.

Corff gwyrdd,  
tebyg i liw'r  
dail

## Broga'r Coed




Hela am  
drychfilod



## FFEITHIAU DIDDOROL

- Mae bysedd traed y broga mor ludiog fel y gall gerdded ar draws ffenest!
- Fel arfer mae'n llai na 5cm o hyd.
- Mae'n byw yn y coedwigoedd glaw yn Ne a Chanolbarth America (South and Central America).
- Fel y salamandr, amffibiad (amphibian) yw broga'r coed – mae'n byw rhan o'i fywyd yn y dŵr a rhan o'i fywyd ar y tir. Mae ganddo waed oer ac asgwrn cefn.
- Gall fyw am hyd at 5 mlynedd.

Maint y broga – Tua 5cm



Perthyn i deulu'r amffibiaid fel y salamandr



Dodwy Wyau

## DODWY WYAU

- Mae'r broga benywaidd (female) yn dodwy (lay) wyau ar ddeilen. Mae'n dewis y man yn ofalus. Mae'r ddeilen yn hongian dros pwll.
- Pan mae'r wyau yn barod i ddeor (hatch), mae'r penbyliaid (tadpoles) yn symud yn wyllt gacwn tu fewn. Dyma sut mae nhw'n agor yr ŵy.
- Yna, mae'r wyau yn golchi i lawr y ddeilen ac yna, plop! plop! plop!, mae nhw'n glanio yn y pwll.
- Mae nhw'n bwyta trychfilod bitw bach nes bod nhw'n troi mewn i frogaod.
- Unwaith mae nhw'n frogaod, mae nhw'n dringo i fyw yn y coed cyfagos.



## BETH YDYN NHW'N BWYTA?

- Mae nhw'n hoff iawn o fwyta trychfilod. Yn enwedig criciaid (crickets), sioncod y gwair (grasshoppers) a chlêr (flies).



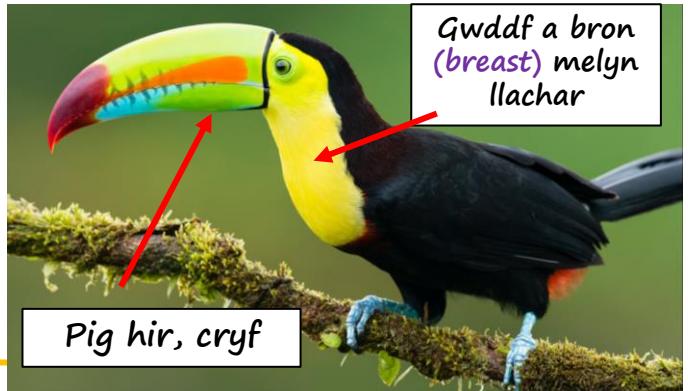
Penbyliaid



Mae'r twcan yn aderyn lliwgar gyda phig (beak) mawr, cryf. Enw ar fwy nag un twcan yw twcanod. Mae nhw'n adar swmllyd iawn. Gallwch glywed haid (group) o dwcanod swmllyd dros filltir i ffwrdd!

## PIG Y TWCAN

Oherwydd ei big fawr, lliwgar, mae'r twcan hwn yn edrych fel pe bai yn mynd i gwmpo ar ei drwyn! Ond mae'r big yn llawn o dyllau aer bach (air holes), fel sbwng (sponge), sy'n golygu ei fod yn ysgafn iawn (very light).



Gwddf a bron (breast) melyn llachar

Pig hir, cryf

## FFEITHIAU DIDDOROL

- Mae llawer o wahanol mathau o dwcanod – Tua 40 i gyd! Mae rhai yn tua maint baryn o siocled a rhai mor hir â a'ch braich.
- Mae ei lliwiau llachar yn helpu nhw i guddio yn y goedwig law.
- Mae nhw'n byw mewn coed gwag (hollow).
- Gall rhai byw hyd at 20 mlynedd!
- Mae cnocell y coed (woodpecker) yn perthyn (related) i'r twcan.
- Enw ar dwcan bach yw cyw (chick).



CURL-CRESTED ARACARI

KEEL-BILLED TOUCAN

SPOT-BILLED TOUCANET

GREEN ARACARI

TOCO TOUCAN

GUYANA TOUCANET

YELLOW-EARED TOUCANET

CHESTNUT-EARED ARACARI

EMERALD TOUCANET

PLATE-BILLED MOUNTAIN TOUCAN

CUVIER'S TOUCAN

SAFFRON TOUCANET



Byw mewn coed gwag




Cyw bach

Dros 40 math

Bwyta ystlum



Cnocell y coed



Bwyta aeron

## BETH YDYN NHW'N BWYTA?

Bydd y twcan yn byw mewn grŵp bach ac yn bwyta pob math o fwyd – aeron (berries), ffrwythau (fruit), trychfilod (insects) ac ambell froga (frog) neu ystlum (bat) hefyd!



Bwyta broga


### Tasg 3 Cymraeg (Adref)

#### Welsh Task 3 (Complete at Home)

Gwrandewch ar Mrs Davies yn darllen y stori Mr Abracadabra Jones. Allwch greu clawr llyfr newydd ar gyfer y stori?

Listen to Mrs Davies reading the story Mr Abracadabra Jones. Can you create a new front cover for the story?

❖ <https://youtu.be/y6dzYKTcHfE>



## TASQ MATHEMATEG 1 – MATHEMATICS TASK 1

**Mathemateg Rygbi** Mae chwaraewyr rygbi yn cerdded, loncian a rhedeg mewn gêm rygbi. Dewch o hyd i'r pellter mae'r chwaraewyr hyn wedi teithio yn ystod y gêm mewn 1 munud?

**Rugby Mathematics** Rugby players have to run, jog and walk during a game. How far have these players travelled in 1 minute?

Ar fy  
ffordd


Beth yw'r cyfanswm?  
What's the total?

Safle	Cedded	Loncian	Rhedeg	Cyfanswm
Bachwr	50m	20m	30m	m
Prop	40m	10m	20m	m
Mewnwr	15m	25m	25m	m
Cefnwr	25m	25m	30m	m



Dewch o hyd i'r pellteroedd coll.  
Find the missing distance.

Safle	Cedded	Loncian	Rhedeg	Cyfanswm
Bachwr	100m	20m	m	200m
Prop	m	50m	50m	200m
Mewnwr	70m	m	80m	400m
Cefnwr	90m	m	60m	400m



Pa gyfuniadau sy'n bosib?  
What combinations are possible?

Safle	Cedded	Loncian	Rhedeg	Cyfanswm
Bachwr		m	m	200m
Prop		m	m	200m
Mewnwr		m	m	200m
Cefnwr		m	m	200m
Wythwr		m	m	200m
Canolwr		m	m	200m
Maswr		m	m	200m

**TASQ MATHEMATEG 1 – MATHEMATICS TASK 1**

**Mathemateg Rygbi** Mae chwaraewyr rygbi yn cerdded, loncian a rhedeg mewn gêm rygbi. Dewch o hyd i'r pellter mae'r chwaraewyr hyn wedi teithio yn ystod y gêm mewn 1 munud?  
**Rugby Mathematics** Rugby players have to run, jog and walk during a game. How far have these players travelled in 1 minute?

**Bron  
Yna**

**Beth yw'r cyfanswm?  
What's the total?**

Safle	Cedded	Loncian	Rhedeg	Cyfanswm
Bachwr	120m	120m	210m	m
Prop	145m	210m	246m	m
Mewnwr	215m	325m	240m	m
Cefnwr	225m	325m	268m	m



**Dewch o hyd i'r pellteroedd coll.  
Find the missing distance.**

Safle	Cedded	Loncian	Rhedeg	Cyfanswm
Bachwr	140m	250m	m	500m
Prop	m	150m	180m	500m
Mewnwr	125m	m	257m	500m
Cefnwr	290m	m	165m	500m



**Pa gyfuniadau sy'n bosib?  
What combinations are possible?**

Safle	Cedded	Loncian	Rhedeg	Cyfanswm
Bachwr		m	m	1km
Prop		m	m	1km
Mewnwr		m	m	1km
Cefnwr		m	m	1km
Wythwr		m	m	1km
Canolwr		m	m	1km
Maswr		m	m	1km

## TASG MATHEMATEG 1 – MATHEMATICS TASK 1

**Mathemateg Rygbi** Mae chwaraewyr rygbi yn cerdded, loncian a rhedeg mewn gêm rygbi. Dewch o hyd i'r pellter mae'r chwaraewyr hyn wedi teithio yn ystod y gêm mewn 1 munud?  
**Rugby Mathematics** Rugby players have to run, jog and walk during a game. How far have these players travelled in 1 minute?

Barod  
am Her

Beth yw'r cyfanswm?  
What's the total?

Safle	Cedded	Loncian	Rhedeg	Cyfanswm
Bachwr	1.2km	2.2km	1.5km	Km
Prop	1.45km	2.1km	2.45km	Km
Mewnwr	2.15km	3.25km	2.4km	Km
Cefnwr	2.25km	3.25km	2.68km	Km



Dewch o hyd i'r pellteroedd coll.  
Find the missing distance.

Safle	Cedded	Loncian	Rhedeg	Cyfanswm
Bachwr	1.4km	1.5km	km	4km
Prop	m	1.5km	1.8km	4km
Mewnwr	1.25km	km	2.57km	4km
Cefnwr	1.9km	km	1.65km	4km



Pa gyfuniadau sy'n bosib?  
What combinations are possible?

Safle	Cedded	Loncian	Rhedeg	Cyfanswm
Bachwr		km	km	5km
Prop		km	km	5km
Mewnwr		km	km	5km
Cefnwr		km	km	5km
Wythwr		km	km	5km
Canolwr		km	km	5km
Maswr		km	km	5km

Cyrraedd 100 (Adref)  
Reaching 100 (Complete at Home)

**Sgwâr 100 Square**



1	3	4							
11	13				19	20			
21	23	25	27	28					
41		44	46						
51						60			
		64	66		69				
			77	79					
	83		87						
91							99		

**Cyrraedd 100 Reaching 100**

20	+		=	100	23	+		=	100
	+	40	=	100		+	62	=	100
90	+		=	100	49	+		=	100
	+	25	=	100		+	18	=	100
15	+		=	100	22	+		=	100
	+	75	=	100		+	91	=	100
65	+		=	100	43	+		=	100
	+	5	=	100		+	34	=	100

**Beth ydy'r rifau coll? What are the missing numbers?**


100	-	10	=		100	-	17	=	
100	-		=	60	100	-		=	71
100	-	30	=		100	-	88	=	
100	-		=	50	100	-		=	44
100	-	85	=		100	-	66	=	
100	-		=	45	100	-		=	27
100	-	65	=		100	-	19	=	
100	-		=	75	100	-		=	68

**Newid o £1 Change From £1**

Talu	Gwario	Gwario	Newid
£1	20c	40c	c
£1	15c	30c	c
£1	60c	25c	c
£1	35c	55c	c
£1	18c	27c	c
£1	46c	19c	c
£1	49c	18c	c

Cyrraedd 1000 (Adref)  
Reaching 1000 (Complete at Home)

# Sgwâr 100 Square



10		30	40						
		130				190	200		
210		230	250	270	280				
	320					390			
410			440	460		490			
510							600		
			640	660		690			
				770	790				
		830		870					
910						990			

# Cyrraedd 1000 Reaching 1000

200	+		=	1000	230	+		=	1000
	+	400	=	1000		+	620	=	1000
900	+		=	1000	490	+		=	1000
	+	250	=	1000		+	180	=	1000
150	+		=	1000	223	+		=	1000
	+	750	=	1000		+	915	=	1000
650	+		=	1000	436	+		=	1000
	+	50	=	1000		+	349	=	1000

## Beth ydy'r rifau coll? What are the missing numbers?

1000	-	100	=		1000	-	170	=	
1000	-		=	600	1000	-		=	710
1000	-	300	=		1000	-	880	=	
1000	-		=	500	1000	-		=	444
1000	-	850	=		1000	-	667	=	
1000	-		=	450	1000	-		=	278
1000	-	650	=		1000	-	199	=	
1000	-		=	750	1000	-		=	688

## Newid o £10 Change From £10

Talu	Gwario	Gwario	Newid
£10	£2.50	£3.20	
£10	£5.20	£1.60	
£10	£4.40	£3.50	
£10	£7.50	£1.99	
£10	£6.30	£1.98	
£10	£4.22	£2.99	
£10	£5.55	£2.99	

Cyrraedd 10 (Adref)  
Reaching 10 (Complete at Home)

**Sgwâr 100 Square**

0.1		0.4	0.6		
1.1	1.3			1.9	2.0
2.1	2.3	2.5	2.7	2.8	
				3.9	
4.1		4.4	4.6	4.9	
5.1		6.4	6.6		6.0
				7.7	7.9
	8.3			8.7	
9.1					9.9



**Cyrraedd 10 Reaching 10**

2.0	+		=	10	2.3	+		=	10
	+	4.0	=	10		+	6.2	=	10
9.0	+		=	10	4.9	+		=	10
	+	2.5	=	10		+	1.8	=	10
1.5	+		=	10	2.2	+		=	10
	+	7.5	=	10		+	9.1	=	10
6.5	+		=	10	4.3	+		=	10
	+	0.5	=	10		+	3.4	=	10

**Beth ydy'r rifau coll? What are the missing numbers?**

10	-	1.0	=	10	-	1.7	=
10	-		=	6.0	-		=
10	-	7.5	=	10	-	8.8	=
10	-		=	2.5	-		=
10	-	8.5	=	10	-	6.6	=
10	-		=	4.5	-		=
10	-	6.5	=	10	-	1.9	=
10	-		=	7.5	-		=

**Newid o £100 Change From £100**

Talu	Gwario	Gwario	Newid
£100	£24.70	£54.80	£
£100	£19.60	£27.90	£
£100	£43.75	£22.20	£
£100	£24.56	£52.88	£
£100	£33.66	£29.78	£
£100	£78.67	£19.85	£
£100	£12.47	£81.99	£



# Mathemateg Tasg 3- quiz (Adref)

## Task 3 - Mathematics- quiz

(Complete at home)

1. <http://hwb.gov.wales>

2. LOG IN

3. Username .....@hwbcymru.net  
4. Password .....yib5@Rihb-----

 Office 365



Teams



General

Posts

Files

Class Notebook

Assignments

### Tasg Mathemateg 3 Cwis Bondiau Rif

### Mathematics Task 3 Number Bonds Quiz

Cwis Bondiau Rif – **Ar Fy Ffordd**

Cwis Bondiau Rif **Bron Yna**

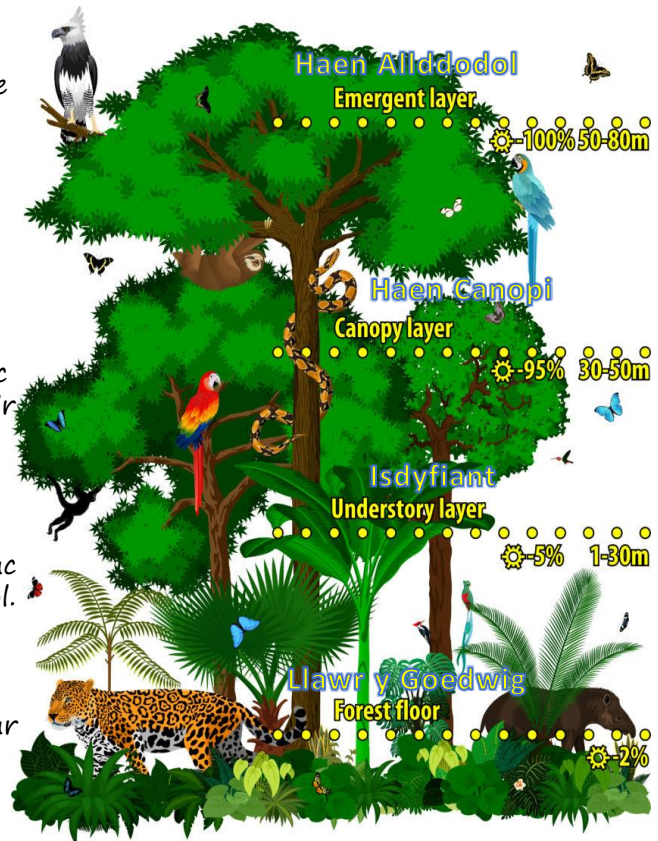
Cwis Bondiau Rif– **Barod Am Her Newydd**

# TASG ARLOESI 1 – Coedwigoedd Glaw Trofannol (Adre)

## INNOVATION TASK 1 – Tropical Rainforests (Complete at home)

### Mae gan goedwigoedd glaw trofannol bedair haen.

- **Haen Allddodol** – Mae'r coed anferth hyn yn gwrthio uwchben yr haen canopi trwchus ac mae ganddynt goronau siâp madarch enfawr. Mae'r coed hyn yn mwynhau'r swm mwyaf o olau'r haul, ond mae'n rhaid iddyn nhw hefyd ddioddef tymheredd uchel, lleithder isel a gwyntoedd cryfion.
- **Haen Canopi** – Mae coronau llydan y coed hyn yn ffurfio canopi tynn, 60 i 90 troedfedd uwchben y ddaear. Yn aml, mae'r canghennau wedi eu gorchuddio'n drwchus gan blanhigion ac wedi'u clymu wrth ei gilydd gan winwydd. Mae'r canopi yn gartref i 90% o'r organebau sydd yn cael eu darganfod yn y goedwig law.
- **Isdyfiant** – Mae'r isdyfiant yn derbyn dim ond 2-15% o'r golau haul sy'n disgyn ar y canopi ac felly, mae'n le tywyll. Mae'n gymharol agored, ac mae'n cynnwys coed ifanc a phlanhigion llysieuol.
- **Llawr y Goedwig** – Mae llawr y goedwig yn derbyn llai na 2% o olau'r haul ac o ganlyniad, ychydig sy'n tyfu yma. Mae haen denau o ddail, hadau, ffrwythau a changhennau wedi syrthio ar y llawr, sydd yn pydru'n gyflym iawn.



### Tropical rainforests have four layers.

- **Emergent Layer** – These giant trees thrust above the dense canopy layer and have huge mushroom-shaped crowns. These trees enjoy the greatest amount of sunlight but also must endure high temperatures, low humidity and strong winds.
- **Canopy Layer** – The broad, irregular crowns of these trees form a tight, continuous canopy 60 to 90 feet above the ground. The branches are often densely covered with other plants and tied together with vines. The canopy is home to 90% of the organisms found in the rainforest.
- **Understory** – Receiving only 2-15% of the sunlight that falls on the canopy, the understory is a dark place. It is relatively open and contains young trees and leafy plants.
- **Forest Floor** – The forest floor receives less than 2% of the sunlight and consequently, little grows here except plants adapted to very low light. On the floor is a thin layer of fallen leaves, seeds, fruits, and branches.

## Eich Tasg / Your Task

Ymchwiliwch i'r anifeiliaid sydd yn byw yn y goedwig law trofannol. Gwylwch y fidios isod am fwy o wybodaeth.

Research into the animals that live in the tropical rainforest. Watch the following videos for further information.

<https://www.bbc.co.uk/bitesize/clips/zkdnvcw>

<https://www.youtube.com/watch?v=JEsv5rqbVnQ>

<https://www.youtube.com/watch?v=3vijLre760w>

### Geirfa Defnyddiol/Useful Words

Goedwigoedd glaw tofannol/Tropical rainforests cyhydedd/equator  
 Haen allddodol/Emergent layer poeth/hot gwlyb/wet lleithder/humidity  
 Haen canopi/Canopy layer golau haul/sunlight canghennau/branches  
 Isdyfiant/Understory planhigion/plants pydru/rot troedfedd/foot  
 Llawr y goedwig/Forest floor organebau/organisms gorchuddio/covered

**TASG ARLOESI 1 – Coedwigoedd Glaw Trofannol (Adre)**  
**INNOVATION TASK 1 – Tropical Rainforests (Complete at home)**

Cwblhewch y tabl isod./Complete the table below.

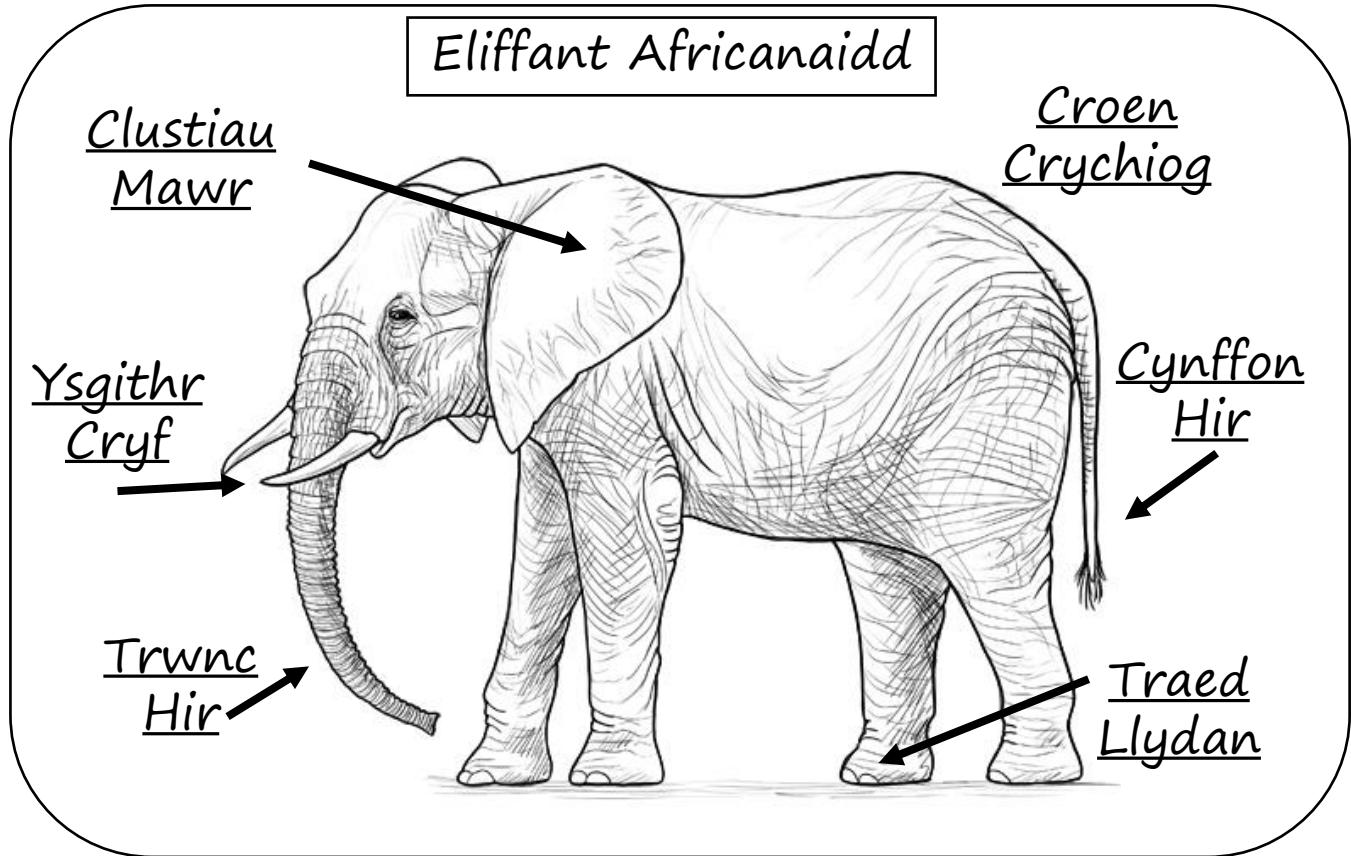
<p>Enw'r anifail sydd yn byw yn y goedwig law trofannol  <i>Name of animal that lives in the Tropical Rainforest</i></p>	<p>Ym mha haenen o'r goedwig law ydy'r anifail yn byw?  <i>In which layer of the rainforest does the animal live?</i></p>	<p>Pam ydy'r anifail yn byw yn yr haenen yma o'r goedwig law?  <i>Why does the animal live in this layer of the rainforest?</i></p>
		<p>Mae'n byw fan hyn oherwydd</p> <hr/> <hr/> <hr/>
		<hr/> <hr/> <hr/>
		<hr/> <hr/> <hr/>
		<hr/> <hr/> <hr/>
		<hr/> <hr/> <hr/>
		<hr/> <hr/> <hr/>
		<hr/> <hr/> <hr/>
		<hr/> <hr/> <hr/>

Cofiwch ddefnyddio Geiriadur yr Academi i helpu chi i gyfieithu enwau'r anifeiliaid i'r Gymraeg/*Please remember to use Geiriadur yr Academi to help you translate the name of the animals to Welsh.*  
<https://geiriaduracademi.org/?lang=en>



TASQ ARLOESI 2–Anifeiliaid Arbennig Coedwigoedd Glaw Trofannol (Adre)  
INNOVATION TASK 2–Amazing Animals of the Tropical Rainforests (At home)

Dyma fraslun o'r anifail yr oedd yn diddori mi fwyaf.  
Here's a sketch of the animal that interests me the most.



Cofiwch labeli'r brasluniad yn daclus gan ddefnyddio pensil a phren mesur.  
Don't forget to use a ruler and pencil to label the sketch neatly.

Dyma ffeithiau diddorol am yr anifail yma. / Here are some interesting facts about this animal.

1. Oeddech chi'n gwybod fod yr eilffant Africanaid yn defnyddio ei glustiau mawr i helpu ei hun i oeri pan mae'r tywydd yn boeth?
2. Mae'n ffaith fod yr eliffantod yma yn defnyddio ei drwnc i sugno ddŵr – mae'r trwnc yn gallu dal hyd at 8 litr o ddŵr!
3. Darganyddais i fod yr eliffant Africanaid hefyd yn defnyddio ei drwnc fel snorcel wrth nofio.
4. Mae naturiaethwyr wedi dargnafod fod yr eliffant yma yn bwyta hyd at 150kg o fwyd bob dydd – mae hwna yr un maint â 375 tin o ffa pob!
5. Cefais i syfrdanu wrth ddarganfod fod ganddyn nhw cof arbennig o dda.

Pam ydy'r anifail yn byw yn yr haen yma o'r goedwig law? Why does the animal live in this layer of the rainforest?  
Credaf fod yr eliffant Africanaid yn byw ar lawr y goedwig law achos mae'n gallu bwyta y planhigion sydd ar gael ac hefyd mae'n gallu teimlo'r dirgryniadau ar y llawr sydd yn helpu iddo gyfathrebu ac edrych allan am berygl e.e. gelynyddion.

TASG ARLOESI 2–Anifeiliaid Arbennig Coedwigoedd Glaw Trofannol (Adre)  
INNOVATION TASK 2–Amazing Animals of the Tropical Rainforests (At home)

**Eich Tasg**  
**Your Task**

Dewisiwch anifail arall o'r goedwig law trofannol sydd yn eich diddori mwyaf. / Choose another animal from the tropical rainforest that interests you the most.

Cofiwch labeli'r brasluniad yn daclus gan ddefnyddio pensil a phren mesur.  
Don't forget to use a ruler and pencil to label the sketch neatly.


Dyma ffeithiau diddorol am yr anifail yma. / Here are some interesting facts about this animal.

- 1.
- 2.
- 3.
- 4.
- 5.

Pam ydy'r anifail yn byw yn yr haen yma o'r goedwig law? Why does the animal live in this layer of the rainforest?

TASG ARLOESI 3-Planhigion Rhyfeddol Coedwigoedd Glaw Trofannol (Adre)  
INNOVATION TASK 2-Peculiar Plants of the Tropical Rainforests (At home)

Mae'r tegeirian yn flodyn prydfferth sydd yn tyfu yn nyfnder y goedwig law trofannol.  
The orchid is a beautiful flower that grows in the depths of the tropical rainforest.



Edrychwch ar y  
lliwiau, y llinellau a'r  
siapiau yn ofalus.  
Look at the colours,  
the lines and shapes  
carefully.


TASG ARLOESI 3 –Planhigion Rhyfeddol Coedwigoedd Glaw Trofannol (Adre)  
INNOVATION TASK 3 –Peculiar Plants of the Tropical Rainforests (At home)

**Eich Tasg**  
**Your Task**



Defnyddiwch bensil, paent neu unrhyw gyfrwng yr hoffech i greu llun gwych o'r tegeirian. Cofwich sulwi ar y lliw, y cysgodi, y llinellau diddorol a'r siapiau.

Use a pencil, paint or any medium of your choice to create a beautiful picture of an orchid. Don't forget to pay attention to the colour, the shading, the interesting lines and the shapes.







## Tasg 1 Lles (Yn yr Ysgol)

### Wellbeing Task 1 (Will be completed in school)

A fedrwch chi greu cardiau fflach sy'n dangos, cwtch, neges a pump uchel? Gallech ddangos y cardiau i'ch ffrindiau ar yr iard!

Can you make flash cards that show hugs, messages and a high fives? You can show these to your friends on the yard.




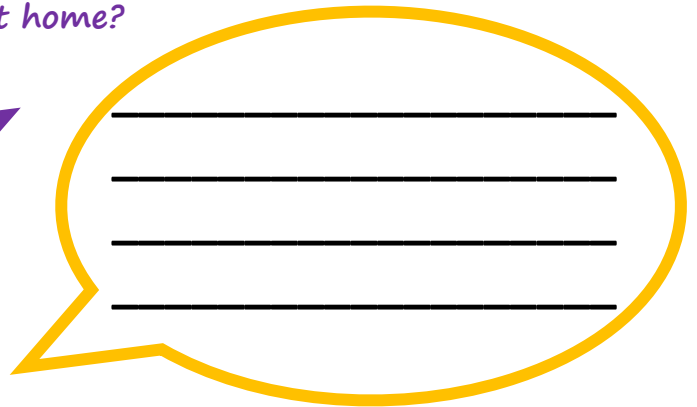



Tasg 2 Lles (Yn yr ysgol)  
Wellbeing Task 2 (In school)



Trafodwch a nodwch eich sylwadau isod, gan dynnu llun o'ch hunan yn y canol.


Discuss the above questions and note your opinions. Draw a picture of yourself in the centre.

Beth weithiodd yn dda i chi yn y tŷ? What worked well for you at home?



Beth oeddech chi'n gweld yn heriol yn ystod yr amser yma? What didn't work well during the time you were at home?





Yn gyntaf, gwylwch y fideo yma: <https://www.youtube.com/watch?v=kgCNGvL0g1g>.

Wythnos yma rydyn ni'n mynd i edrych ar stori Keiran (5:55):




Dechreuodd Kieran chwarae gemau gyda'i ffrindiau pan oedd yn saith mlwydd oed ac yn y blynyddoedd a ddilynodd daeth yn gaeth (*addicted*).

Byddai'n aros i fyny trwy'r nos i chwarae. Rhoddodd y gorau i olchi a dechrau cwmpo i gysgu yn yr ysgol.



Erbyn 15 mlwydd oed roedd yn rhaid iddo adael yr ysgol.



Sylweddolodd bryd hynny fod ganddo broblem a gofynnodd am help.



Mae yna lawer o bethau da am fod ar-lein a chwarae gemau, ond mae bod o flaen sgrin ac yn y byd rhithiol (*virtual*) am amser rhy hir yn cael effeithiau negyddol arnoch chi. Mae'n bwysig eich bod chi'n gallu gweld yr arwyddion a dod o hyd i gydbwysedd.

Mae Lles Digidol yn bwysig iawn er mwyn i chi ddal i gael hwyl ar-lein wrth gadw'n ddiogel a thyfu'n oedolyn iach.



Mae 2 weithgaredd yr wythnos hon i chi eu cwblhau a hefyd tasg her i'r rhai ohonoch sydd am wthio eich hun;

**Sylwi ar yr arwyddion**




**Dod o hyd i falans**



**Tasg Her**



Am fwy o wybodaeth a help i ddod o hyd i gydbwysedd iach yn eich bywyd, edrychwch ar:  
Childline <https://www.childnet.com/teachers-and-professionals/for-working-with-young-people/hot-topics/screen-time-healthy-balance> ac Internet Matters  
: <https://www.internetmatters.org/resources/screen-time-tips-to-support-7-11-year-olds/>




Firstly, watch this Newsround video: <https://www.youtube.com/watch?v=kgCNGvL0g1g>.

This week we're going to be looking at Keiran's story (5:55):



Kieran started playing games with his friends when he was seven years old and in the years that followed became addicted.

He would stay up all night to play, he stopped washing and started falling asleep in school.



He would stay up all night to play, he stopped washing and started falling asleep in school. By 15 years old he had to drop out of school.

He soon realised then that he had a problem and asked for help.



There are many benefits to being online and playing games but being in front of a screen and in the "virtual world" for too long will have negative effects on you. It's important that you can spot the signs and find a balance.

Digital Wellbeing is really important in order for you to still have fun online while keeping safe and growing into a healthy adult..



There are 2 main parts to this week's activity for you to complete plus a challenge task for those who want to push themselves;

**Spotting the Signs**




**Finding a balance**



**Challenge Task**



For more information and help on finding a healthy balance in your life have a look at Childline : <https://www.childnet.com/teachers-and-professionals/for-working-with-young-people/hot-topics/screen-time-healthy-balance> and Internet Matters : <https://www.internetmatters.org/resources/screen-time-tips-to-support-7-11-year-olds/>



**Sylwi ar yr arwyddion**



Arwyddion o'r byd o'ch cwmpas / Signs from the world around you

Arwyddion o'ch corff eich hun / Signs from your own body


*Beth yw'r arwyddion eich bod wedi bod yn edrych ar sgrin neu wedi bod yn y byd rhithiol yn rhy hir?*

**Tasg 1**

A allwch chi liwio'r enghreifftiau isod i ddangos os mae'r arwydd yn dod o'r **amgylchedd o'ch cwmpas (lliwioch mewn oren)** neu o'ch **corff eich hun (lliwioch mewn glas)**? Mae enghraifft wedi'i wneud i chi. / Can you colour the examples below to show if the sign comes from the **environment around you (colour in orange)** or from **your own body (colour in blue)**?


Pen tost	Mae'n anodd mynd i gysgu	Mae'r ddyfais yn teimlo'n boeth iawn	Teimlo'n orioog (moody) neu'n flin
Meddwl yn gyson (constantly) am fod ar-lein	Mae aelodau'r teulu'n sôn am ba mor hir rydych chi wedi bod ar-lein	Golwg niwlog (blurry vision)	Mae'r ddyfais yn rhedeg allan o fatri
Yn teimlo'n llwglyd (hungry)	Edrych ar y cloc a sylweddoli bod llawer o amser wedi mynd heibio	Neges ar y sgrin yn gofyn a ydych chi yno o hyd	Poen gwddf

**Tasg 2**



A allwch chi feddwl am fwy o enghreifftiau i lenwi'r tabl? / Can you think of more examples to fill the table?

Arwyddion o'r byd o'ch cwmpas	Arwyddion o'ch corff eich hun
Mae Mam a Dad yn gwneud i mi roi'r dabled i ffwrdd	Mae fy llygaid yn brifo
Rwy'n sylwi ei bod wedi tywyllu y tu allan	Dwi angen diod



**Dod o hyd i falans**



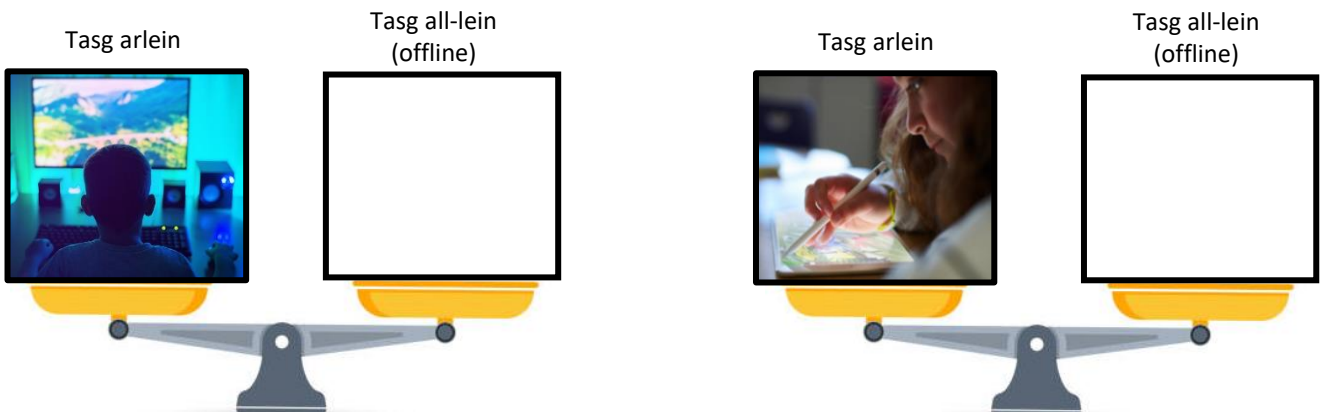
**Tasg 1**


Tynnwch llinellau i gysylltu'r arwyddion â datrysiad / Draw lines to connect the signs with a solution

Yn teimlo'n llwglyd	Os ydych chi wedi bod yn eistedd yn edrych yn rhy hir, rhowch gynnig ar rai ymarferion ysgafn. Chwarae gêm fel pêl-droed neu dag sy'n cael eich corff i symud.
Poen gwddf	Cymerwch seibiant a dewch o hyd i rywbeth i'w fwyta! Efallai y bydd angen byrbryd arnoch chi ond gall diod o ddŵr hefyd helpu i roi'r egni sydd ei angen ar eich corff.
Batri fflat	Gall bod ar-lein effeithio ar eich hwyliau felly rhowch y ddyfais i lawr a dewch o hyd i rywbeth i'ch codi chi: dal i fyny gyda ffrindiau neu ymlacio gyda'ch teulu.
Pen tost	Peidiwch â phlygio i mewn a dal i ddefnyddio'r ddyfais. Defnyddiwch hwn fel esgus i'w roi i un ochr a gwneud rhywbeth arall yn lle. Beth am fynd allan am ychydig?
Teimlo'n oriog (moody)	Mae hyn yn arwydd nad ydych chi wedi bod yn yfed digon, felly ewch i nôl diod o ddŵr ar unwaith. Mae hefyd yn dda gwneud rhywbeth sy'n rhoi seibiant i'ch llygaid.

**Tasg 2**

A allwch chi dynnu llun a fydd yn cydbwysu'r dasg ar-lein â thasg all-lein i helpu i gadw'r graddfeydd yn gytbwys? / Can you draw a picture that will balance the online task with an offline task to help keep the scales balanced?





**Tasg Her**



**Tasg**

Cyfaill Cyngchori yw rhywun sy'n rhoi cyngor i bobl am eu problemau.  
*An Agony Aunt is someone who gives advice to people about their problems.*

Trowch mewn i Gyfaill Cyngchori trwy ysgrifennu ymateb i'r llythyrau hyn sy'n gofyn am gyngor ynghylch treulio gormod o amser ar-lein. Allwch chi helpu pob person i gael cydbwysedd iach? /  
Become an Agony Aunt by writing a response to these letters that are asking for advice about spending too much time online. Can you help each person gain a healthy balance?

Annwyl Cyfaill Cyngchori,

Dwi wrth fy modd yn chwarae ar-lein ond weithiau dwi'n cael pen tost gwael iawn. Rwy'n meddwl am chwarae gemau arlein trwy'r amser ac weithiau rydw i hyd yn oed yn anghofio bwyta. Beth ddylwn i ei wneud?

**Llew o Gasnewydd**

Annwyl Llew, \_\_\_\_\_

---

---

---

---

---

---

---

---

---

---

---

Oddi wrth, \_\_\_\_\_

**Cyfaill Cyngchori**

---